

**Демонстрационный вариант контрольной работы по физике
10 класс, I полугодие**

1.

Материальная точка, двигаясь прямолинейно, переместилась из точки с координатами $(-2; 3)$ в точку с координатами $(1; 7)$. Определите проекции вектора перемещения на оси координат.

- | | |
|--------------|---------------|
| 1) 3 м; 4 м | 3) 3 м; -4 м |
| 2) -3 м; 4 м | 4) -3 м; -4 м |

2.

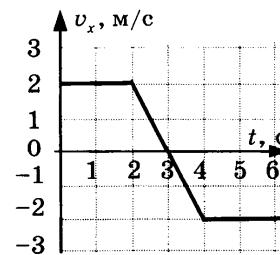
Во время подъема в гору скорость велосипедиста, движущегося прямолинейно и равноускоренно, изменилась за 8 с от 5 м/с до 3 м/с. При этом ускорение велосипедиста было равно

- | | |
|--------------------------|-------------------------|
| 1) $-0,25 \text{ м/с}^2$ | 3) $-0,9 \text{ м/с}^2$ |
| 2) $0,25 \text{ м/с}^2$ | 4) $0,9 \text{ м/с}^2$ |

3.

На графике изображена зависимость проекции скорости тела, движущегося вдоль оси Ox , от времени. Какое перемещение совершило тело к моменту времени $t = 5 \text{ с}$?

- | | |
|--------|---------|
| 1) 2 м | 3) 8 м |
| 2) 6 м | 4) 10 м |

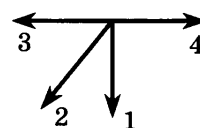
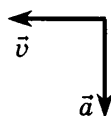


4.

В течение 20 с ракета поднимается с постоянным ускорением 8 м/с^2 , после чего двигатели ракеты выключаются. На какой максимальной высоте побывала ракета?

5.

На левом рисунке представлены векторы скорости и ускорения тела. Какой из четырех векторов на правом рисунке указывает направление вектора равнодействующей всех сил, действующих на это тело?



- | | | | |
|------|------|------|------|
| 1) 1 | 2) 2 | 3) 3 | 4) 4 |
|------|------|------|------|

6.

У поверхности Земли на космонавта действует гравитационная сила 640 Н. Какая гравитационная сила действует со стороны Земли на того же космонавта в космическом корабле, движущемся по круговой орбите вокруг Земли на расстоянии одного земного радиуса от ее поверхности?

- 1) 320 Н
2) 213 Н
3) 160 Н
4) 80 Н

7.

Брусok массой 0,5 кг прижат к вертикальной стене с силой 10 Н. Коэффициент трения скольжения между бруском и стеной равен 0,4. Какой величины силу надо приложить к бруску, чтобы равномерно поднимать его вертикально вверх?

8.

Человек массой m прыгает с горизонтальной скоростью v с берега в неподвижную лодку массой M . Каким суммарным импульсом обладают лодка с человеком? Сопротивление воды движению лодки пренебрежимо мало.

- 1) 0
2) mv
3) $(m + M)v$
4) $\frac{mv}{M + m}$

9.

Кинетическая энергия тела 16 Дж и импульс 4 кг·м/с. Чему равна масса тела?

- 1) 1 кг
2) 2 кг
3) 0,5 кг
4) 4 кг

10.

Автомобиль, двигаясь с выключенным двигателем, на горизонтальном участке дороги имеет скорость 20 м/с. Какое расстояние он проедет до полной остановки вверх по склону горы под углом 30° к горизонту? Трением пренебречь.

- 1) 10 м
2) 20 м
3) 80 м
4) 40 м

11.

Найдите работу, которую надо совершить, чтобы лежащий на полу однородный стержень, масса которого 4 кг и длина 3 м, расположить под углом 30° к горизонтали.