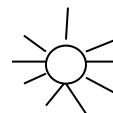
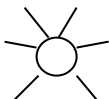



**Демонстрация работы  
по математике для учащихся 1 классов**

1. Раскрась листочки так, чтобы жёлтый был между зеленым и красным, а справа от жёлтого – зеленый.



2. Запиши цифрой количество лучей у солнышка.



3. Впиши числа 2, 5, 7 в нужные квадраты.

				4				9	
--	--	--	--	---	--	--	--	---	--

4. Напиши соседей числа

 2  4  7  8 \*  9 

5. Сравни

$3 \square 8$

$7 \square 4$

$3 + 1 \square 5$

\*  $3 + 3 > \square$

$5 \square 4$

$6 \square 9$

$1 + 6 \square 5$

\*  $4 + \square < 6$

6. Найди значения выражений.

$2 + 4 = \square$

$4 + 3 = \square$

$4 + \square = 8$

$5 + 2 = \square$

$1 + 8 = \square$

$\square + 2 = 5$

7. Сколько прямоугольников на рисунке?



8. \* Сколько лет исполнилось бегемотику?

- \* Сколько гостей он ждёт?

9. Реши примеры, запиши ответы:

$10 - 3 =$

$6 + 3 =$

$4 + 2 =$

$8 - 3 =$

$9 - 2 =$

$3 + 3 =$

**10. Запиши недостающие числа:**

8	2			4	8
		5	7		

**11. Сделай рисунок и реши задачу:**

На ветке сидели 5 воробьёв. Два воробья улетели. Сколько воробьёв осталось на ветке?

Рисунок:

Решение:

Ответ:

**12. Сделай рисунок и реши задачу:**


У Ани 5 кукол и 2 мишки? Сколько игрушек у Ани?

Рисунок:


Решение:

Ответ:

**13. Обведи ломаные линии:**

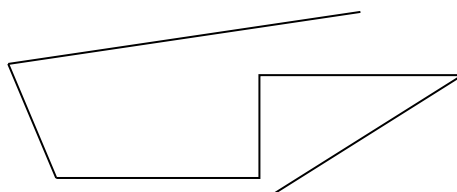


**14. Измерь полоску.** Начиная измерение от деления с цифрой «0» на линейке. Запиши рядом результат измерения:



**15. Сколько звеньев у ломаной линии?**

Ответ:



**16. Начерти треугольник и прямоугольник.**