

АТТЕСТАЦИОННАЯ РАБОТА ПО ГЕОГРАФИИ

7 КЛАСС

1. Задание по теме Географические карты

Заполните схему.

Картографические проекции



2. Задание по теме Народы, языки и религии

Вставьте пропущенные слова.

Среди всех религий выделяют _____ мировые религии. Это _____, _____, _____. Они распространены во многих странах мира.

3. Задание по теме Страны мира

Укажите самую большую по площади страну мира _____

Укажите самую большую по численности населения страну мира _____

4. Задание по теме Земная кора на карте

Расположите части платформы от поверхности в глубину. Ответ запишите в виде последовательности цифр.

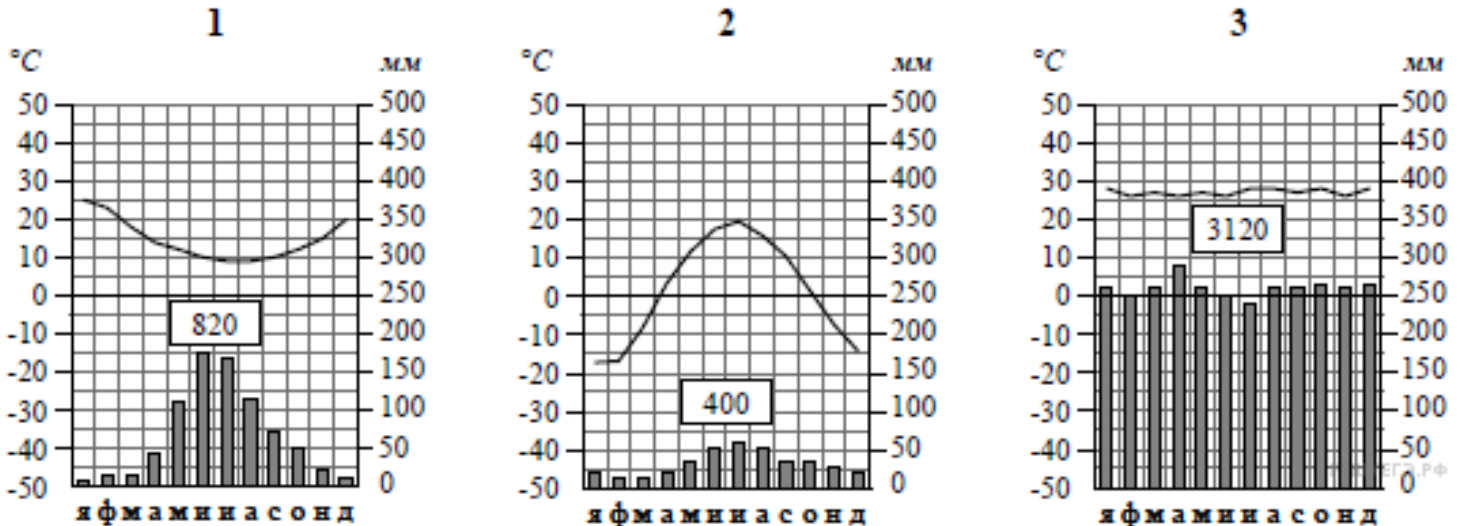
1 Осадочный чехол 2 Фундамент 3 Щит

Ответ _____

5. Задание по теме Климатические пояса и области Земли

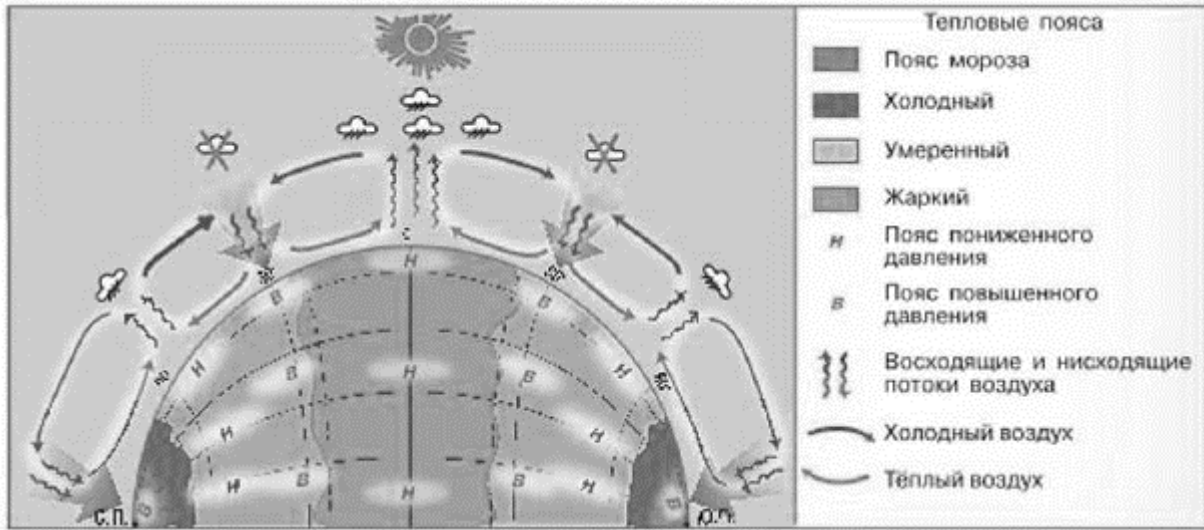
Рассмотрите рисунки с изображением климатограмм, построенных по данным метеонаблюдений в разных частях Земли, и выполните задания.

Определите, какому климатическому поясу соответствует каждая климатограмма. Подпишите название климатического пояса под соответствующей климатограммой.



6. Задание по теме Давление воздуха и осадки на разных широтах.

Дайте название схеме.



Ответ _____

7. Задание по теме Общая циркуляция атмосферы

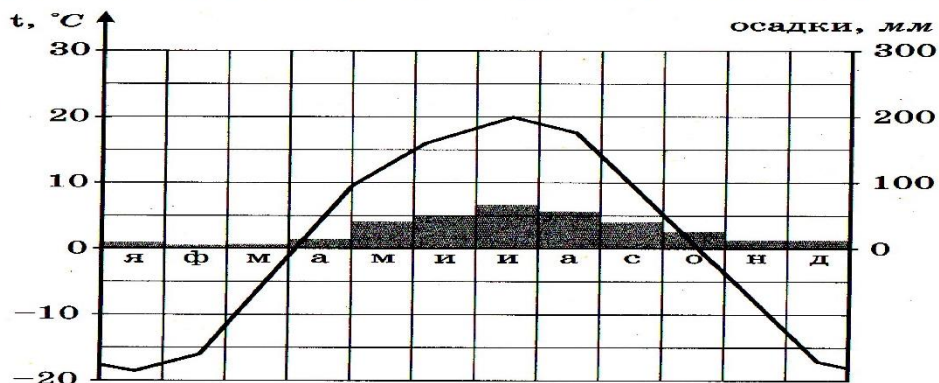
Найдите соответствие

1. Пассаты	А) Направлены из тропиков к экватору
2. Муссоны	Б) Меняют направление дважды в год

Ответ _____

8. Задание по теме Климатические пояса и области земли

1. Используя климатограмму, выполните задания.



1) Определите годовую амплитуду температуры воздуха.

Ответ: _____

2) Какой сезон является самым влажным?

Ответ: _____

3) Какой месяц является самым сухим?

Ответ: _____

9. Задание по теме Природные зоны Земли

Определите природную зону



Ответ _____

Ответ _____

10. Задание по разделу материка и страны.

Установите соответствие между географическими особенностями и материками, для которых они характерны: для этого к каждой позиции первого столбца подберите соответствующую позицию из второго столбца.

ГЕОГРАФИЧЕСКИЕ ОСОБЕННОСТИ

- А) К северу от материка расположен один из крупнейших в мире архипелагов.
- Б) В восточной части материка наиболее высока плотность населения и расположены крупные города.
- В) Материк имеет разветвлённую речную сеть, относящуюся к бассейнам четырёх океанов.
- Г) На западе материка протянулась одна из самых крупных горных систем мира.
- Д) Восточная часть материка и прилегающие к ней острова — одна из наиболее сейсмоопасных зон Земли.
- Е) Материк расположен в двух частях света, которые сильно отличаются друг от друга по природным условиям, а также по культуре и традициям народов.

МАТЕРИКИ

- 1) Северная Америка
- 2) Евразия

Запишите в таблицу выбранные цифры под соответствующими буквами.

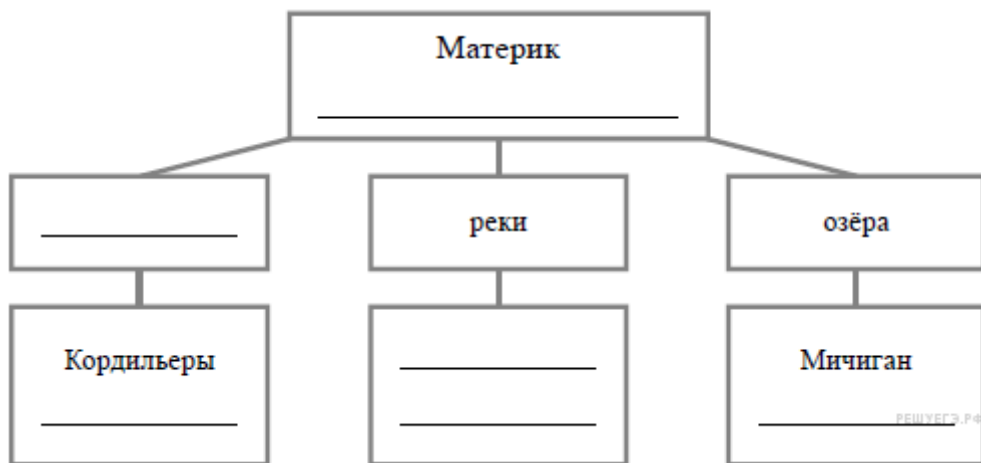
Ответ:

А	Б	В	Г	Д	Е
<input type="text"/>	<input type="text"/>	<input type="text"/>	<input type="text"/>	<input type="text"/>	<input type="text"/>

11. Задание по разделу материка и страны

В приведённом ниже списке перечислены крупные географические объекты. Выберите из представленного ниже списка названия географических объектов, расположенных на территории одного из материков: Северная Америка, Евразия, и заполните схему. Впишите в схему название материка, типы и названия выбранных Вами географических объектов.

Гималаи, Анхель, Чад, Верхнее, Кавказ, Колорадо, Онежское, Большой Водораздельный хребет, Аппалачи, Саргассово, Миссисипи, Титикака.



Критерии оценивания работы:

Задание 1 – 2 балла

Задание 2 – 2 балла

Задание 3 – 1 балл

Задание 4 – 1 балл

Задание 5 – 2 балла

Задание 6 – 1 балл

Задание 7 – 1 балла

Задание 8 – 3 балла

Задание 9 – 2 балл

Задание 10 – 3 балла

Задание 11 – 2 балла

Максимальное количество баллов за работу – 20

Баллы	Оценка
16-20 (81 – 100 процентов)	5
12-15 (61 – 80 процентов)	4
6-11 (31 – 60 процентов)	3
5 баллов и менее (30 процентов и менее)	2