



Аттестационная работа по окружающему миру
для учащихся 1 класса

Итоговая работа будет содержать **22 вопроса** по выбору учителя.

ФИ учащегося _____

1. Найдите флаг России. Отметь знаком «х».



2. Столица России - это.... Отметь знаком «х».

А) Москва Б) Магнитогорск В) Минск

3. Что можно увидеть на ночном небе? Отметь знаком «х».

А) Солнце и луну Б) Луну и звезды В) Месяц и луну

4. Найди на картинках созвездие большой медведицы. Отметь знаком «х».



5. Кто такие насекомые? Отметь знаком «х».

- А) Насекомые – это животные, у которых шесть ног.
- Б) Насекомые – это водные животные, тело которых покрыто чешуёй.
- В) Насекомые – это животные, тело которых покрыто перьями.

6. Кто такие звери? Отметь знаком «х».

- А) Звери – это животные, тело которых покрыто шерстью. Звери выкармливают детёнышей молоком. Поэтому их называют млекопитающими.
- Б) Звери – это водные животные, тело которых покрыто чешуёй.
- В) Звери – это животные, тело которых покрыто перьями.

7. В каждом ряду вычеркните лишний предмет.

- А) шкаф, стул, диван, чайник.
- Б) ложка, блендер, телевизор, пылесос.
- В) вилка, тарелка, кресло, кастрюля.

8. На какой сигнал светофора можно переходить улицу? Выберите верную картинку. Отметь знаком «х».

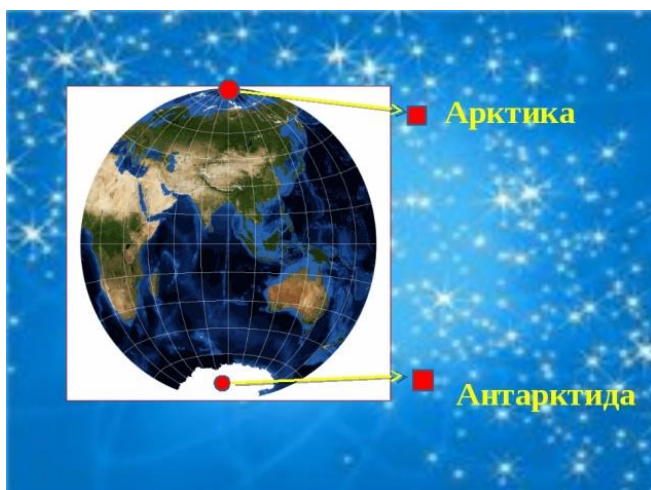


9. Вспомните, как работает почта. Отметь верный путь письма от отправителя до адресата. Отметь знаком «х».



10. Где живут белые медведи, а где живут пингвины? Стрелочками укажи на глобусе, место проживания медведей и пингвинов.





11. Почему идет дождь? Выберите верное утверждение. Отметьте знаком «х».

- А) Капли, из которых состоит облако, становятся слишком тяжелыми и падают на землю.
- Б) Потому что стоит плохая погода, поэтому идет дождь.
- В) Это плачет туча, когда светит солнце.

12. Почему радуга разноцветная? Выберите верное утверждение. Отметьте знаком «х».

- А) Это цветные лучи солнца.
- Б) Это цветные капли дождя, которые на солнце становятся видимыми.
- В) Это солнечные лучи, попадая в небе на капельки дождя, распадаются на разноцветные лучики.

13. Выберите из предложенных картинок средства связи. Отметьте знаком «х».



14. Какое хвойное дерево осенью сбрасывает свои хвоинки? Отметь знаком «х».

- А) ель
- Б) лиственница
- В) кедр

15. Перечисли названия дней недели в правильной последовательности. Отметь знаком «х».

- А) понедельник, вторник, среда, четверг, пятница, суббота
- Б) понедельник, среда, четверг, пятница, суббота, воскресенье
- В) понедельник, вторник, среда, четверг, пятница, суббота, воскресенье

16. Подчеркни, что относится к природе:

горы, стекло, бабочка, ножницы, стул, солнце, слон, камень.

17. Как называется обильное опадание листьев осенью? Отметь знаком «х».

- А) осыпание
- Б) исчезновение
- В) листопад

18. Укажи группу, в которой перечислены только хвойные растения. Отметь знаком «х».

- А) кедр, ель, осина
- Б) берёза, клён, тополь

В) сосна, ель, лиственница

19. К какой группе относятся животные: ёж, белка, мышь, лось? Отметь знаком «х».

- А) рыбы
- Б) земноводные
- В) млекопитающие (звери)

20. К какой группе относятся животные, у которых 6 конечностей? Отметь знаком «х».

- А) пауки
- Б) насекомые
- В) пресмыкающиеся

21. Соедини стрелками название органа чувств и название чувств:

Глаза	слух
Язык	зрение
Уши	вкус
Нос	осязание
Кожа	обоняние

22. Продолжи предложения.

Я живу в стране _____ .

Её столица – город _____ .

23. Как называется глава государства в России? Отметь знаком «х».

- А) царь
- Б) президент
- В) король

24. Подчеркни, что не относится к природе:

горы, стекло, бабочка, ножницы, стул, солнце, слон, камень.

25. Что не относится к явлениям природы? Подчеркни ответ.

снег, дождь, загрязнение воздуха, оттепель

26. Укажи группу, в которой перечислены только лиственные растения. Отметь знаком «х».

- А) кедр, ель, осина
- Б) берёза, клён, тополь
- В) сосна, ель, лиственница

27. К какой группе относятся животные: журавль, иволга, пингвин? Отметь знаком «х».

- А) рыбы
- Б) земноводные
- В) птицы

28. К какой группе относятся животные, у которых 8 конечностей? Отметь знаком «х».

- А) пауки
- Б) пресмыкающиеся
- В) насекомые

29. Какие государственные символы России ты знаешь? Напиши.

30. Отметь тот ответ, где перечислены все животные, обитающие только в холодных районах. Отметь знаком «х».

- А) пингвин, белый медведь, слон, тюлень
- Б) волк, заяц, крокодил, тюлень, белка
- В) пингвин, белый медведь, морж, тюлень

31. Какая часть растения находится под землёй? Отметь знаком «х».

- А) корень
- Б) стебель
- В) цветок

32. Чем звери отличаются от других животных? Отметь знаком «х».

- А) они большие
- Б) они покрыты шерстью
- В) они умеют хорошо бегать

33. Какая птица зимующая? Отметь знаком «х».

- А) аист
- Б) стриж
- В) поползень

34. Сколько ног у насекомых? Отметь знаком «х».

- А) 4 ноги
- Б) 6 ног
- В) 8 ног

35. Почему нельзя рвать цветы? Отметь знаком «х».

- А) «Нельзя рвать цветы, потому что можно пораниться»
- Б) «Рвать цветы можно только тогда, когда на поляне их много»
- В) «Нельзя рвать цветы, потому что от этого страдают беззащитные живые существа и исчезает красота природы»

36. Во что превращается снег в тепле? Отметь знаком «х».

- А) в туман
- Б) в пар
- В) в воду

37. Как человек получает электричество? Отметь знаком «х».

- А) от молнии
- Б) из природы
- В) оно вырабатывается на электростанциях

38. Какой одежды НЕ бывает? Отметь знаком «х».

- А) рабочая
- Б) спортивная
- В) уличная

39. Какой звук вреден для ушей? Отметь знаком «х».

- А) громкая музыка
- Б) щебет птиц
- В) шум дождя

40. Что такое Солнце? Отметь знаком «х».

- А) планета
- Б) звезда
- В) комета

41. Какой витамин помогает реже простужаться? Отметь знаком «х».

- А) витамин С
- Б) витамин А
- В) витамин В

42. Где надо ставить большинство комнатных растений? Отметь знаком «х».

- А) в тени
- Б) ближе к свету
- В) в прохладное место

43. Какая птица не остаётся зимовать? Отметь знаком «х».

- А) воробей
- Б) синица
- В) ласточка

44. Кто не является насекомым? Отметь знаком «х».

- А) паук
- Б) бабочка
- В) стрекоза

45. Что такое ветер? Отметь знаком «х».

- А) движение туч
- Б) ураган
- В) движение воздуха

46 Какой лёд по цвету? Отметь знаком «х».

- А) белый
- Б) бесцветный
- В) голубой

47. Как доставляется электричество к домам? Отметь знаком «х».

- А) на машинах
- Б) по проводам
- В) в железных ящиках

48. В каком возрасте можно выезжать на велосипеде на проезжую часть? Отметь знаком «х».

- А) в 10 лет
- Б) в 14 лет
- В) в любом

49. Что такое Луна? Отметь знаком «х».

- А) одна из планет Солнечной системы
- Б) самая яркая звезда
- В) спутник Земли

50. Отметь тот ответ, где перечислены все животные, обитающие только в холодных районах. Отметь знаком «х».

- А) пингвин, белый медведь, слон, тюлень
- Б) волк, заяц, крокодил, тюлень, белка
- В) пингвин, белый медведь, морж, тюлень

Итоговая работа будет содержать **22 вопроса** по выбору учителя.

Система оценивания

Каждое верно выполненное задание оценивается в 1 балл.

Максимальное количество баллов, которое может набрать аттестуемый – 22
(100%)

Оценка «5» - 19-22 баллов (81 – 100%)

Оценка «4» - 14-18 баллов (61 – 80%)

Оценка «3» - 9-13 баллов (31 – 60%)

Оценка «2» - 0 - 8 баллов (30%)